

Examen Bimestral

Sexto Grado

Tercer Bimestre

NOMBRE DEL ALUMNO			
GRADO		GRUPO	NÚMERO DE LISTA
ESCUELA			
FECHA			

ASIGNATURA	ACIERTOS	CALIFICACIÓN
ESPAÑOL		
MATEMÁTICAS		
CIENCIAS NATURALES		
GEOGRAFÍA		
HISTORIA		
FORMACIÓN CÍVICA Y ÉTICA		
PROMEDIO		

ESPAÑOL

Lee el siguiente texto y contesta las preguntas

NIÑOS MEXICANOS NO TIENEN BUENOS HÁBITOS ALIMENTICIOS

Entre los productos predilectos de los niños: la comida chatarra.

México, 15 de noviembre. Según una encuesta dada a conocer el día de ayer los niños mexicanos gastan su dinero en comprar productos que no tienen ningún valor nutricional pero que, en cambio, son abundantes en colorantes, grasas y productos químicos que, a la larga, pueden afectar el estado de salud de quien los consume.

Se sugiere que los niños tengan cuidado con el consumo excesivo de este tipo de productos "chatarra" (papas fritas, chicharrones y pastelitos). **Los niños están "gorditos" porque los padres no ponen atención en sus hijos, los dejan comer lo que ellos quieran y no están al pendiente de su salud.**

1. El texto anterior es

- A) Carta de opinión
- B) Noticia
- C) Carta formal
- D) Reportaje

2. El texto marcado con negritas se dice que es un prejuicio porque

- A) Es verdad que los niños son gorditos
- B) Los padres no cuidan a sus hijos
- C) El escritor opina sin fundamentos
- D) Porque los niños gastan sus dinero en comida chatarra.

3. Si quisieras dar tu punto de vista sobre esa noticia y al mismo tiempo hacérselo saber al director del periódico escribirías.

- A) Una carta formal
- B) Una carta de opinión
- C) Una escrito de punto de vista
- D) Una carta informal

4. ¿A qué sección pertenece el siguiente encabezado de noticia?

"Se inauguró ayer la exposición pictórica El Mundo y sus Colores".

- A) Economía
- B) Cultura
- C) Deportes
- D) Política Nacional

5. ¿Cuál de las siguientes NO es una característica de la noticia?

- A) Objetiva
- B) Veraz
- C) Oportuna
- D) Prejuiciosa

6. Las preguntas anteriores son preguntas de tipo

- A) Relacionar columnas
- B) Opción múltiple
- C) Completar enunciados
- D) Para responder preguntas específicas

La etapa en la que se experimenta un cambio intenso y rápido que se refleja en el desarrollo corporal, en las actividades intelectuales y en las manifestaciones emocionales y afectivas se llama...

7. ¿A qué asignatura pertenece la pregunta anterior?

- A) Español
- B) Historia
- C) Formación Cívica y Ética
- D) Ciencias Naturales.

8. Te sirve para que sepas qué temas no has comprendido todavía, así puedas reforzar o repasar lo necesario para lograr tu aprendizaje. Aquí te analizas tu mismo(a).

- A) Evaluación
- B) Coevaluación
- C) Examen
- D) Autoevaluación

Lee detalladamente lo siguiente y contesta

Pepe Pérez tiene un perrito muy enfermo y debe darle tres medicamentos: una gota cada tres horas, una inyección cada seis horas y una pastilla cada cuatro horas. A las 10 de la mañana administró los tres medicamentos. ¿A qué hora le tocarán otra vez los tres medicamentos juntos?

9. ¿Qué necesitas para resolver esta pregunta?

- A) Buscar en el libro de Ciencias Naturales
- B) La respuesta no se puede encontrar en un libro, se tiene que trabajar con la pregunta para encontrar la respuesta.
- C) En un libro de Medicinas
- D) En la libreta de Matemáticas

10. ¿Cuál de las siguientes preguntas está mal escrita?

- A) ¿Por qué fue fusilado Maximiliano?
- B) ¿Cuándo fue la intervención francesa?
- C) ¿Qué hicieron los Niños héroes para llamarlos así?
- D) ¡ Quien inició la guerra de Independencia !

11. ¿Cuál de las siguientes no es una sección del periódico?

- A) Cultura
- B) Deportes
- C) Diversión
- D) Política

12. Es una de las recomendaciones para durante la resolución de un examen.

- A) Descansa y duerme para evitar el estrés.
- B) Mira con calma el calendario de exámenes.
- C) Acepta los resultados; si son bajos, pon mayor esfuerzo para la siguiente evaluación.
- D) Reserva algunos minutos para revisar tus respuestas.

“Explica con tus palabras el proceso de la fotosíntesis”

13. El reactivo anterior es de tipo

- A) Pregunta cerrada
- B) Preguntas abiertas
- C) Preguntas de conocimientos subjetivos
- D) Preguntas de conocimientos objetivos

14. Es la presentación del conflicto que se desarrolla enfrentando a los personajes.

- A) Cuento
- B) Leyenda
- C) Obra de teatro
- D) Entrevista

Lee el siguiente texto

Escena 2

(Entra el lobo por el bosque.)

Lobo: Vaya, ¡pero qué hambre tengo!, hace varios días que estoy sin comer.

Niño: ¡Buahhh! No me importa, no me gusta. ¡Buaahhh!

Lobo: **(Escucha los gritos y se asoma por la ventana.)** Pero, ¡qué veo!, un niño...

Nana: ¡Está bien! Ya no te lo comas, pero deja de llorar.

Niño: **(Gritando.)** ¡Buaaahhh!

Nana: Ya no llores, si sigues llorando te llevo con el lobo.

15. El texto en negritas se refiere a

- A) Acotaciones
- B) Al escenario
- C) Obra de teatro
- D) Actos

16. Una obra de teatro se divide en

- A) Escenas
- B) Acotaciones
- C) Actos
- D) Personajes

17. En el lenguaje teatral, es una expresión que indica que un actor se retira de la escena discretamente; también se emplea para imponer silencio o para indicar que alguien se queda callado.

- A) Quedarse en silencio
- B) Acotación
- C) Hacer mutis
- D) Bajar el telón

18. Entre que signos se escriben las acotaciones

- A) ¿? C) ¡ !
- B) () D) “ ”

Manuel dijo "Me gustan mucho los carros"

19. La manera de escribir el texto anterior es

- A) Discurso indirecto
- B) Discurso directo
- C) Oración admirativa
- D) Oración interrogativa

20. Es un ejemplo de un discurso indirecto

- A) "Son las cinco y media, hijo."
- B) "Despiértate."
- C) Ella le dice que son las cinco y media.
- D) El jefe dice lo siguiente: "Saldré de misión el jueves "

MATEMÁTICAS

Observa las series numéricas

3, 6, 9, 12, 15, 18, 21, 24, 27, 30,
4, 8, 12, 16, 20, 24, 28, 32, 36, 40,
5, 10, 15, 20, 25, 30, 35, 40, 45, 50,

21. Si continúas con la serie numérica del 4. ¿Qué número de los siguientes no utilizarás?

- A) 52 B) 70 C) 80 D) 64

22. ¿Cuál de los siguientes números se utiliza en las series anteriores?

- A) 40 B) 90 C) 120 D) 45

23. ¿En cuál opción se muestran múltiplos de 6?

- A) 18, 60, 72, 120, 130
- B) 6, 36, 64, 72
- C) 3, 6, 18, 24, 36
- D) 6, 18, 72, 90

A los alumnos de un grupo de sexto grado se les solicitó la medida de su estatura. Los únicos que la sabían la registraron de la siguiente manera: Daniel, 1.5 m; Alicia, un metro con 40 cm; Fernando 1 $\frac{1}{4}$ m; Mauricio, 1.60 m; y Sofía 1 $\frac{1}{2}$ m;

24. ¿Quién de ellos tiene menor estatura?

- A) Daniel
- B) Alicia
- C) Sofía
- D) Mauricio

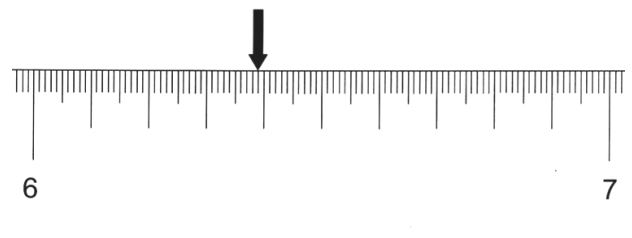
25. ¿Quiénes de ellos miden lo mismo?

- A) Daniel y Mauricio
- B) Sofía y Alicia
- C) Alicia y Fernando
- D) Daniel y Sofía

26. ¿Cuál es el sucesor de 2.3?

- A) 3.3 B) 2.4 C) 2.31 D) 3

27. ¿Cuál es el número decimal que está marcado en la siguiente recta numérica?



- A) 6.039
- B) 6.39
- C) 63.9
- D) 639

28. Rafael tiene las siguientes prendas de vestir:



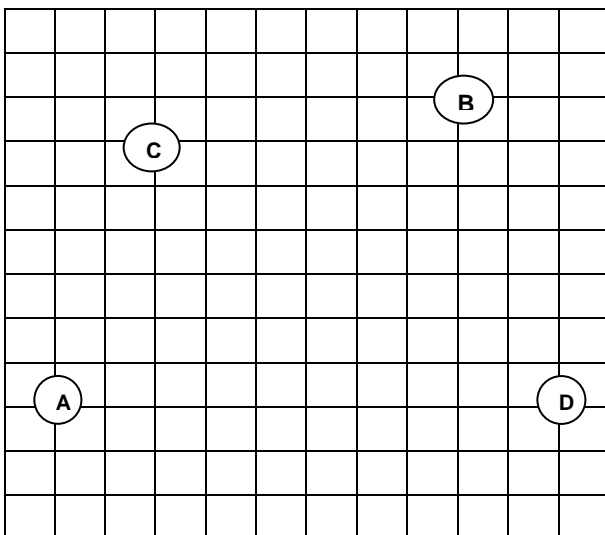
Las combinaciones distintas que puede realizar son:

- A. 9 B. 6 C. 12 D. 24

29. Los niños de la escuela secundaria se ganaron un premio de la lotería. ¿Cuánto dinero aproximadamente le tocará a cada uno si el premio fue de \$ 1 015 y son 35 niños?

- A) 9 B) 10 C) 29 D) 30

30. El punto ubicado en (11,3) sur en el plano cartesiano, corresponde a la letra:



31. En una tienda de ropa una blusa cuesta \$260.00. Si le descuentan el 40%, ¿Cuánto tendrías que pagar si la compras?

- A. \$104 B. \$ 156
C. \$180 D. \$ 200

32. Si por un pantalón pagué \$135.00 después de que me descontaron el 10%, ¿Cuál era su precio original?

- A. \$135 B. \$190
C. \$150 D. \$200

33. Compré una bicicleta cuyo precio es de \$750.00,

Pero me aumentaron el 15% del IVA, entonces ¿Cuánto pagué por ella?

- A. \$862.50 B. \$815.00
C. \$700.00 D. \$950.00

34. Calcula el 10% de \$300, \$800 y \$2700 La opción correcta de respuestas es:

- A. \$30, \$80 Y \$270
B. \$3, \$8 Y \$27
C. \$0.3, \$0.8 Y \$2.7
D. \$3.0, \$8.0 Y \$27.0

35. De las siguientes medidas, la que corresponde al Sistema Inglés es:

- A. CENTÍMETRO B. KILÓMETRO
C. KILOGRAMO D. YARDA

36. Blanca vende computadoras y un cliente necesita que desglose la factura. Si el precio a la venta de la computadora es de \$10, 500 ¿cuánto tiene que ponerle en la factura de Subtotal y cuánto de IVA?

- A) \$ 9, 130. 43 y \$ 1, 369.57
B) \$ 8, 925 y \$ 1, 575
C) \$ 9, 000 y \$ 1, 500
D) \$ 10, 500 y \$ 1, 575

Con ayuda de la siguiente tabla contesta de la pregunta 17 a la 20.

1 pulgada	2.54 cm
1 pie	12 pulgadas
1 milla	1 609.34 m
1 libra	0.454 kg
1 galón	3.785 litros

37. ¿Cuántos metros mide aproximadamente la manguera?




- A) 372 m C) 945 m
B) 12 m D) 78 m

38. ¿A cuántos centímetros equivale un pie?

- A) 12 cm C) 2.54 cm
B) 30.48 cm D) 12 m

39. ¿A cuántos km/h de velocidad circula el automóvil aproximadamente?



- A) 129 km
B) 128 747 km
C) 1 609 km
D) 1.609 km

40. El automóvil de Jesús tiene capacidad de 45 litros. Pero el está en la frontera y la maquina mide en galones. ¿cuántos galones aproximadamente le caben si el tanque está vacío?

- A) 12 galones
B) 3.785 galones
C) 11 galones
D) 15 galones

CIENCIAS NATURALES

41. Los seres humanos dejamos de crecer físicamente hasta los 20 o 21 años, mientras que el desarrollo humano se detiene hasta

- A) los 40 años
B) la muerte
C) la vejez
D) la edad adulta

42. A esta etapa se le conoce como el “gran estirón”. Cuando se alcanza una talla cercana a la edad adulta, nuestros músculos se fortalecen y aumentamos de peso.

- A. La infancia B) La vejez
C. La adolescencia D) La edad adulta

43. Señala cuál de estos cambios NO ocurren en la adolescencia

- A) Aumento de peso
B) Aparece bello en las axilas y genitales
C) Aparecen barros y espinillas
D) Problemas de salud y fatiga

44. Identifica qué cambio ocurre en los niños durante la adolescencia

- A. Las caderas se ensanchan
B. La primera menstruación
C. La voz se hace más grave
D. Los senos crecen

45. Los óvulos comienzan a madurar en los ovarios. Es un cambio que se da en:

- A. Las niñas
- b. Los niños
- C. Etapa adulta
- d. La vejez

46. Las experiencias nuevas que adquirimos desde la infancia y adolescencia, como ideas, creencias, valores, etc. van formando la:

- A. Adaptación
- B) Actitud
- C. Amistad
- D) Identidad propia

47. ¿Cuál de las siguientes acciones NO FAVORECEN a una formación de una buena identidad?

- A. Aprender a convivir
- B. Inequidad entre hombres y mujeres
- C. La amistad
- D. Buenas relaciones familiares

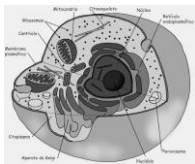
48. Identifica cuál es la célula sexual del hombre



A



B

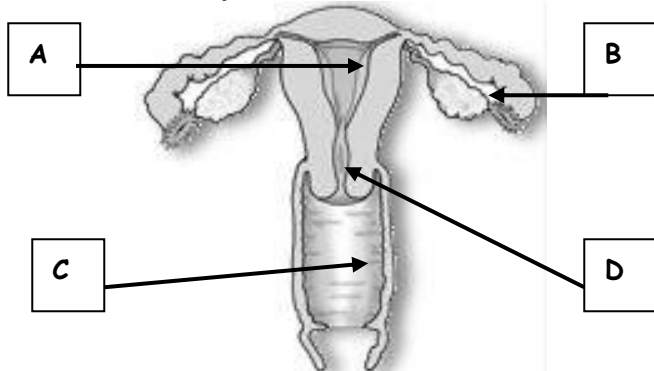


C



D

49. ¿En qué parte del aparato reproductor de la mujer se realiza la ovulación?



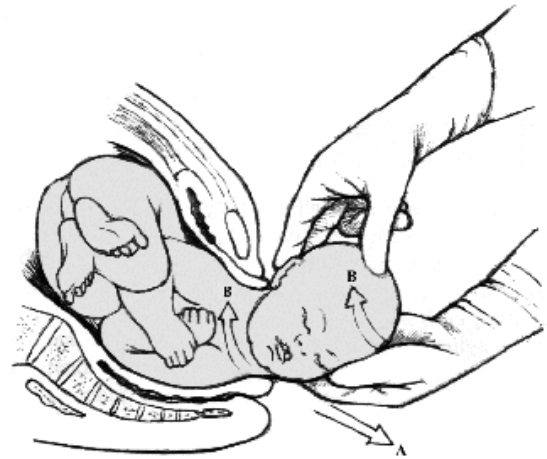
50. El embarazo comienza cuando las células sexuales del hombre y la mujer se unen. A esta unión se le conoce como:

- A. Relaciones sexuales
- B. Parto
- C. Fecundación
- D. Eyaculación

51. La placenta es la encargada de pasar oxígeno y alimento de la sangre de la madre al:

- A. Feto
- B. Niño
- C. Bebé
- D. Huevo o cigoto

52. ¿Cómo se le llama al momento que se ve en la imagen?



- A. Embarazo
- B. Fecundación
- C. Dar a luz
- D. Parto

53. Antes de que una pareja decida tener relaciones sexuales, debe tomar en cuenta:

- A. Forzar a la pareja a realizarlo
- B. Estar preparados física y emocionalmente
- C. Hacerlo sin responsabilidad
- D. No tener los cuidados necesarios

54. Los "linfocitos" o glóbulos blancos son células encargadas de vigilar nuestro cuerpo y defenderlo de infecciones. Ellos forman parte del sistema:

- A. Digestivo
- B. Circulatorio
- C. Respiratorio
- D. Inmunológico

55. ¿Cuál es la función del sistema nervioso?

- A. Coordinar las funciones de los sistemas del cuerpo
- B. Ponernos nerviosos
- C. Llevar la sangre a los órganos
- D. Mover nuestras piernas

56. ¿Cómo se llaman las células nerviosas?

- A. Citoplasma
- B. Glóbulos
- C. Neuronas
- D. Linfocitos

57. ¿En qué consiste la menstruación?

- A. Salida del óvulo fecundado, acompañado de flujo de sangre
- B. La relación sexual
- C. El nacimiento de un bebé
- D. La producción de hormonas

58. ¿Cuáles son los órganos genitales externos del hombre?

- A. Pene, prepucio, glande
- B. Testículos, hormonas y uretra
- C. Espermatozoides y testículos
- D. Pene, testículos y semen

59. Es un hábito que nos ayuda a mantener en buen estado nuestro sistema inmunológico.

- A) No vacunarse.
- B) Hacer ejercicio.
- C) Bañarse diariamente.
- D) Comer siempre frutas y verduras

60. ¿Cuál de las siguientes NO es una enfermedad de transmisión sexual?

- A) VIH sida
- B) Gonorrea
- C) Sífilis
- D) Cáncer

GEOGRAFÍA

61. Rama de la Geografía que se dedica al estudio de la población, en todos sus aspectos.

- A. DEMOGRAFIA
- B. INFORMATICA
- C. INEGI
- D. HIDROGRAFIA

62. Al aumento acelerado de la población se le llama.....

- A. DENSIDAD DE POBLACION
- B. MIGRACION
- C. EXPLOSION DEMOGRAFICA
- D. NATALIDAD

63. Al número de personas que viven en un área determinada se le llama.....

- A. DENSIDAD DE POBLACION
- B. MIGRACION
- C. EXPLOSION DEMOGRAFICA
- D. NATALIDAD

64. Para calcular la densidad de población de un territorio....

- A.** SE MULTPLICA EL NUMERO DE HABITANTES QUE VIVEN ALLI POR EL NUMERO DE KILÓMETROS CUADRADOS DE ESE TERRITORIO.
- B.** SE DIVIDE EL NUMERO DE KILÓMETROS CUADRADOS ENTRE EL NUMERO DE HABITANTES.
- C.** SE DIVIDE EL NUMERO DE HABITANTES ENTRE EL NUMERO DE KILÓMETROS CUADRADOS.
- D.-** SE MULTIPLICA EL NUMERO DE KILÓMETROS CUADRADOS POR EL NUMERO DE HABITANTES.

65. Nos permiten saber la cantidad de habitantes que hay en un país, estado, etc.

- A. LOS POLITICOS
- B. LOS PROGRAMAS DE TELEVISION
- C. LOS CENSOS
- D. LOS GOBIERNOS

66. Consiste en la salida de personas de su lugar de origen, para mudarse a otro espacio.

- A. EMIGRACIÓN
- B. INMIGRACIÓN
- C. HUIDA
- D. COLONIZACIÓN

67. Grupos de población con un origen y una cultura común.

- A. GRUPOS DE EMIGRANTES
- B. GRUPOS DE INMIGRANTES
- C. GRUPOS MARGINADOS
- D. GRUPOS ÉTNICOS

68. Es uno de los problemas causados por la concentración excesiva de población.

- A. NO CONVIVEN LAS PERSONAS
- B. HAY MUCHA CONTAMINACION
- C. SE TIENEN TODOS LOS SERVICIOS PUBLICOS AL 100 %
- D. CASI NADIE SE HABLA POR SER PENOSOS

69. Continente más poblado del mundo

- A. AMERICA
- B. ASIA
- C. AFRICA
- D. EUROPA

70. Es el país de América con mayor número de inmigrantes

- A. MÉXICO
- B. ARGENTINA
- C. BRASIL
- D. ESTADOS UNIDOS

HISTORIA

71. ¿En cuántos periodos está dividida la historia de Mesoamérica?

- A. 1
- B. 3
- C. 5
- D. 2

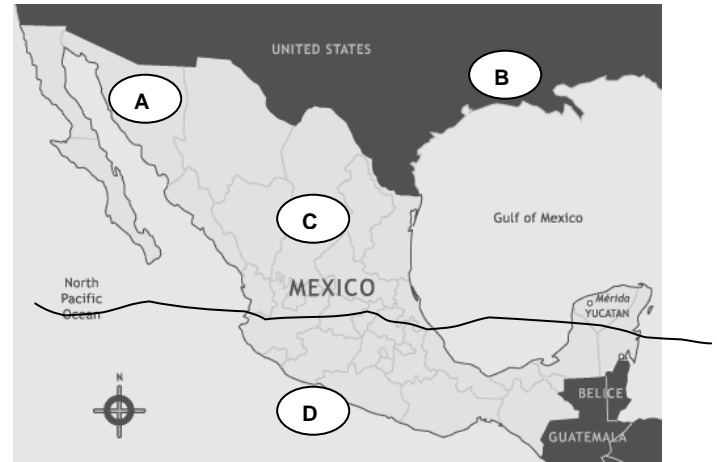
72. ¿Cuál es el periodo donde surgen los centros ceremoniales y predominaron las culturas Teotihuacana, Maya y Zapoteca?

- A. PRECLÁSICO
- B. POSTCLÁSICO
- C. CLÁSICO
- D. FORMATIVO

73. Señala cuáles son las culturas más importantes de Mesoamérica

- A. MAYAS, OLMECAS, ZAPOTECAS
- B. TOLTECAS, TEOTIHUACANOS, CHICHIMECAS
- C. CHICHIMECAS E INCAS
- D. TARASCOS Y CHICHIMECAS

74. Observa el mapa. En él, Mesoamérica está señalado con la letra:



75. ¿Cuál fue el final de Teotihuacan?

- A. FELIZ
- B. DESAPARECIÓ
- C. CON DOMINIO EN TODO MÉXICO
- D. SAUQUEADA, QUEMADA Y DESTRUIDA

76. ¿De qué otra manera se conoce a los aztecas?

- A. TOLTECAS
- B. MEXICAS
- C. OLMECAS
- D. CHICHIMECAS

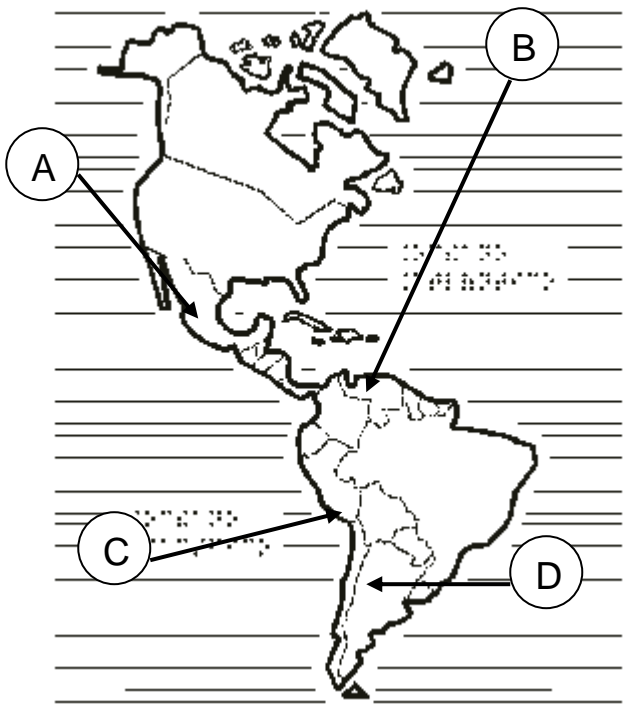
77. ¿Quiénes fundaron la gran Tenochtitlan?

- A. ZAPOTECAS
- B. MIXTECAS
- C. MAYAS
- D. MEXICAS

78. Una característica común de las culturas maya y zapoteca fue:

- A. REALIZAR OBSERVACIONES DE LOS ASTROS
- B. TALLAR CABEZAS COLOSALES DE PIEDRA
- C. SEMBRAR EN CHINAMPAS
- D. UTILIZAR EL CERO

79. Opción que señala la región de las culturas andinas corresponde a la letra:



80. Único país que no corresponde a la región de las culturas andinas

- A. CHILE B. BOLIVIA
C. PERÚ D. COLOMBIA

FORACIÓN CÍVICA Y ÉTICA

81. Es un valor social que consiste en respetar las opiniones de los demás, aunque no estén de acuerdo con nuestras ideas.

- A. TOLERANCIA
B. RESPONSABILIDAD
C. LIBERTAD
D. CONVIVENCIA

82. Crees que la existencia de numerosos grupos étnicos en México enriquecen nuestra cultura.

- A. SI PORQUE SABEN MUCHO
B. NO PORQUE NO SABEN NADA
C. SI POR LA DIVERSIDAD EN MUCHOS ASPECTOS
D. NO PORQUE CASI NO HAY

83. En nuestro país existen diversos grupos étnicos que aun conservan su manera de hablar (idioma), esto.....

- A. SE DEBE PROHIBIR PORQUE NUESTRO IDIOMA OFICIAL ES EL ESPAÑOL.
B. SE DEBE RESPETAR PORQUE SON RASGOS DE LA DIVERSIDAD CULTURAL Y SOCIAL DE MEXICO
C. SE DEBE ENSEÑAR EN LAS ESCUELAS PARA QUE TODOS APRENDAMOS ESOS IDIOMAS.
D. NINGUNA DE LAS ANTERIORES

84.- Las costumbres y tradiciones de las diferentes regiones de nuestro país....

- A. DEBEMOS IGNORARLAS MENOS LAS NUESTRAS
B. TENEMOS QUE APRENDERLAS FORZOSAMENTE
C. NO NOS INTERESAN
D. DEBEMOS RESPETARLAS Y PROCURAR QUE SE CONSERVEN.

85. En diversos estados se tienen diferencias en cuanto a la cultura, las tradiciones, la música, etc. Esto da a nuestro país un carácter:

- A. NACIONALISTA
B. PLURICULTURAL
C. PROGRESISTA
D. ANÁRQUICO

86. La maestra inició la clase diciendo la siguiente: "Es el derecho de las naciones de establecer una organización política propia, dictar leyes que rijan la vida interna y de aprovechar sus recursos naturales sin intervención de ninguna potencia o poder extranjero".

La maestra se refiere a:

- A) La Independencia .
B) La Soberanía Nacional.
C) La Diversidad Nacional.
D) Las Relaciones Exteriores.

87. La Asamblea General de las Naciones Unidas adoptó en 1992 la resolución por la que el 22 de marzo de cada año fuera declarado

- A) DÍA MUNDIAL DEL MEDIO AMBIENTE
- B) DÍA MUNDIAL DEL AIRE
- C) DÍA MUNDIAL DEL AGUA
- D) DÍA MUNDIAL DE LA PAZ

88. En 1990 el escritor mexicano Octavio Paz recibió el:

- A) PREMIO NOBEL DE LA SALUD
- B) PREMIO NOBEL DE LAS NACIONES
- C) PREMIO NOBEL DE LA CIENCIA
- D) PREMIO NOBEL DE LA PAZ

89. El libro de texto gratuito, como el que ahora tienes en tus manos, fue uno de los muchos proyectos de

- A) VICENTE GUERREO
- B) EMILIANO ZAPATA
- C) JAIME TORRES BODET
- D) MIGUEL HIDALGO

90. En la escuela primaria “Niño Migrante”, los alumnos tienen prohibido por sus padres jugar con Nicolás porque profesa una religión distinta a la de ellos.

¿Qué derecho no está siendo practicado por los padres?

- A) Libertad de imprenta
- B) Libertad de creencias.
- C) Libertad de expresión.
- D) Libertad de pensamiento

HOJA DE RESPUESTAS

NOMBRE DEL ALUMNO			
GRADO		GRUPO	NÚMERO DE LISTA
ESCUELA			
FECHA			

INSTRUCCIONES.- RELLENA EN CADA PREGUNTA SÓLO UN ÓVALO QUE INDIQUE LA RESPUESTA CORRECTA.

ESPAÑOL				23	(A)	(B)	(C)	(D)	46	(A)	(B)	(C)	(D)	69	(A)	(B)	(C)	(D)	
1	(A)	(B)	(C)	(D)	24	(A)	(B)	(C)	(D)	47	(A)	(B)	(C)	(D)	70	(A)	(B)	(C)	(D)
2	(A)	(B)	(C)	(D)	25	(A)	(B)	(C)	(D)	48	(A)	(B)	(C)	(D)	HISTORIA				
3	(A)	(B)	(C)	(D)	26	(A)	(B)	(C)	(D)	49	(A)	(B)	(C)	(D)	71	(A)	(B)	(C)	(D)
4	(A)	(B)	(C)	(D)	27	(A)	(B)	(C)	(D)	50	(A)	(B)	(C)	(D)	72	(A)	(B)	(C)	(D)
5	(A)	(B)	(C)	(D)	28	(A)	(B)	(C)	(D)	51	(A)	(B)	(C)	(D)	73	(A)	(B)	(C)	(D)
6	(A)	(B)	(C)	(D)	29	(A)	(B)	(C)	(D)	52	(A)	(B)	(C)	(D)	74	(A)	(B)	(C)	(D)
7	(A)	(B)	(C)	(D)	30	(A)	(B)	(C)	(D)	53	(A)	(B)	(C)	(D)	75	(A)	(B)	(C)	(D)
8	(A)	(B)	(C)	(D)	31	(A)	(B)	(C)	(D)	54	(A)	(B)	(C)	(D)	76	(A)	(B)	(C)	(D)
9	(A)	(B)	(C)	(D)	32	(A)	(B)	(C)	(D)	55	(A)	(B)	(C)	(D)	77	(A)	(B)	(C)	(D)
10	(A)	(B)	(C)	(D)	33	(A)	(B)	(C)	(D)	56	(A)	(B)	(C)	(D)	78	(A)	(B)	(C)	(D)
11	(A)	(B)	(C)	(D)	34	(A)	(B)	(C)	(D)	57	(A)	(B)	(C)	(D)	79	(A)	(B)	(C)	(D)
12	(A)	(B)	(C)	(D)	35	(A)	(B)	(C)	(D)	58	(A)	(B)	(C)	(D)	80	(A)	(B)	(C)	(D)
13	(A)	(B)	(C)	(D)	36	(A)	(B)	(C)	(D)	59	(A)	(B)	(C)	(D)	CÍVICA Y ÉTICA				
14	(A)	(B)	(C)	(D)	37	(A)	(B)	(C)	(D)	60	(A)	(B)	(C)	(D)	81	(A)	(B)	(C)	(D)
15	(A)	(B)	(C)	(D)	38	(A)	(B)	(C)	(D)	GEOGRAFÍA				82	(A)	(B)	(C)	(D)	
16	(A)	(B)	(C)	(D)	39	(A)	(B)	(C)	(D)	61	(A)	(B)	(C)	(D)	83	(A)	(B)	(C)	(D)
17	(A)	(B)	(C)	(D)	40	(A)	(B)	(C)	(D)	62	(A)	(B)	(C)	(D)	84	(A)	(B)	(C)	(D)
18	(A)	(B)	(C)	(D)	CIENCIAS NATURALES				63	(A)	(B)	(C)	(D)	85	(A)	(B)	(C)	(D)	
19	(A)	(B)	(C)	(D)	41	(A)	(B)	(C)	(D)	64	(A)	(B)	(C)	(D)	86	(A)	(B)	(C)	(D)
20	(A)	(B)	(C)	(D)	42	(A)	(B)	(C)	(D)	65	(A)	(B)	(C)	(D)	87	(A)	(B)	(C)	(D)
MATEMÁTICAS				43	(A)	(B)	(C)	(D)	66	(A)	(B)	(C)	(D)	88	(A)	(B)	(C)	(D)	
21	(A)	(B)	(C)	(D)	44	(A)	(B)	(C)	(D)	67	(A)	(B)	(C)	(D)	89	(A)	(B)	(C)	(D)
22	(A)	(B)	(C)	(D)	45	(A)	(B)	(C)	(D)	68	(A)	(B)	(C)	(D)	90	(A)	(B)	(C)	(D)