

Examen Bimestral

Sexto Grado

Cuarto Bimestre

NOMBRE DEL ALUMNO			
GRADO		GRUPO	NÚMERO DE LISTA
ESCUELA			
FECHA			

ASIGNATURA	ACIERTOS	CALIFICACIÓN
ESPAÑOL		
MATEMÁTICAS		
CIENCIAS NATURALES		
GEOGRAFÍA		
HISTORIA		
FORMACIÓN CÍVICA Y ÉTICA		
PROMEDIO		

ESPAÑOL

LEE CON ATENCION

¿Sueñan las esponjas de mar con ovejitas porosas?

La respuesta es... "¡No!". Las esponjas -y me refiero a las poríferas, esos animales tremendamente simples y amorfos que viven en el lecho marino- no pueden soñar porque carecen por completo de tejido nervioso, neuronas, alma o cualquier sistema de control central. Por no tener, no tienen ningún órgano o tejido especializado. Son básicamente agregaciones de células que filtran el agua para retener los nutrientes que flotan en ella.

1. El texto anterior es un extracto de un:
 - A) Texto informativo
 - B) Noticia
 - C) Texto científico
 - D) Entrevista
2. El autor quiere darle divulgación a su investigación. ¿En cuál de los siguientes, no lo debe de publicar?
 - A) Diccionario
 - B) Televisor
 - C) Periódico
 - D) Revista

LEE EL SIGUIENTE TEXTO

La aspirina es un agente antiplaquetario, lo cual significa que impide que las células sanguíneas denominadas «plaquetas» se adhieran unas a otras y formen coágulos. Es por eso que algunos pacientes que se restablecen de un ataque cardíaco deben tomar aspirina: para evitar que se formen otros coágulos sanguíneos en las arterias coronarias.

3. En el texto anterior se usa un lenguaje
 - A) Metafórico
 - B) Clínico
 - C) Técnico científico
 - D) Literario

LEE LAS SIGUIENTES FRASES

Mi tío tiene 200 **cabezas** de ganado
El alfiler tiene una **cabeza** muy pequeña
El Monterrey va a la **cabeza** del torneo
Me duele mucho la **cabeza**
Miguel es la **cabeza** del equipo

4. La palabra que está en negritas es un ejemplo de palabras:
 - A) Sinónimas
 - B) Antónimas
 - C) Monosémicas
 - D) Polisémicas
5. Es el tipo de carta que se utiliza para dirigirse y comunicarse con parientes y amigos y se utiliza un lenguaje cotidiano
 - A) Carta formal
 - B) Carta de retiro
 - C) Carta informal
 - D) Carta de presentación
6. La internet ha demostrado ser una excelente herramienta educativa,..... hay que tratar de sacarle el máximo provecho.
 - A) porque
 - B) así mismo
 - C) es decir,
 - D) por lo tanto
7. En la pregunta anterior las palabras o expresiones que se usan para unir las diferentes partes de una oración se les conocen como:
 - A) uniones
 - B) adverbios
 - C) conectores
 - D) frases
8. ¿Cuál de las siguientes NO es una lengua indígena de México?
 - A) Náhuatl
 - B) Maya
 - C) Mandarín
 - D) Purépecha

OBSERVA Y LEE CON ATENCION EL POEMA EN NAHUATL

*Niquitoa ni Nezahualcoyotl
¿Cuix oc nelli nemohua in tlalticpac Yhui ohuaye?
An nochipa tlalticpac: zan achica ye nican
Tel ca chalchihuitl no xamani
no teocuitlatl in tlapani
no quetzalli poztequi
An nochipa tlalticpac: zan achica ye nican*

ESTA ES SU TRADUCCIÓN AL ESPAÑOL

*Yo, Nezahualcóyotl, lo pregunto:
¿Acaso de verdad se vive con raíz en la tierra?
No para siempre en la tierra, sólo breve tiempo
aquí.
Aunque sea de jade se quiebra,
aunque sea de oro, se rompe,
aunque sea de plumaje de quetzal se desgarran,
no para siempre en la tierra: sólo breve tiempo
aquí.*

9. ¿Qué significa la palabra **tlalticpac**?

- A) Plumaje
- B) Tierra
- C) Oro
- D) Jade

10. ¿Qué significa la palabra **quetzalli**?

- A) Aunque sea de
- B) Se desgarran
- C) Quetzal
- D) Pluma de quetzal

11. Andrés quiere enviar un correo electrónico a su tía Angélica. Pero al momento de enviar el correo, le marca error y no lo envía. Busca en la estructura del correo en dónde se está equivocando.

- A) **De:** andreschaparro@hotmail.com
- B) **Para:** Tía Angélica
- C) **Asunto:** Iré a visitarte en las vacaciones de verano
- D) Dice mi mamá que si mis calificaciones son buenas, podre ir a visitarte en las vacaciones de verano. Mi mamá me dijo que te preguntara si me recibes en tu casa. Prometo portarme mejor que el año pasado. De veras me voy a portar muy bien. Con mucho cariño. Andrés Cervantes

ANDRÉS TAMBIEN ENVIO UNA CARTA POR EL CORREO POSTAL

México, D.F., 20 de mayo del 2009.

Tía Angélica:

Dice mi mamá que te manda muchos saludos, que ya quiere verte y que desea que pronto se puedan reunir en casa de mi abuela. Me dijo que si mis calificaciones son buenas, podre ir a visitarte en las vacaciones de verano y que te preguntara si me recibes en tu casa. Prometo portarme mejor que el año pasado, aquí ya me porto bien. Ya crecí, ahora soy más grande y menos travieso. Tengo muchas ganas de ver a mis primos y aprender a hacer los juguetes que ellos hacen. Tía ya me voy, por favor, contéstale a mi mamá y dile que si me dejas ir contigo.

Andrés Cervantes

12. ¿Qué parte de la carta está con negritas?

- A) Remitente
- B) Destinatario
- C) Tía Angélica
- D) Despedida

13. Andrés cuando redactó su carta se le olvidó separar en párrafos. ¿Con que expresión iniciaría el párrafo correspondiente al mensaje y motivo de la carta?

- A) Dice mi mamá que...
- B) Me dijo que si mis calificaciones...
- C) Tengo muchas ganas de ver a mis primos...
- D) Tía ya me voy, por favor...

14. ¿Cuál de las palabras subrayadas en la carta anterior se trata de un **defectivo**?

- A) dijo
- B) aquí
- C) más
- D) ya

15. ¿Con qué letra está señalado el remitente?

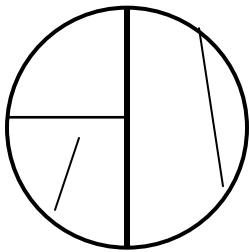


MATEMÁTICAS

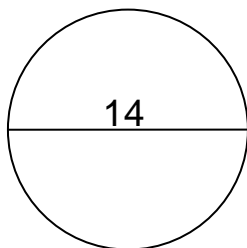
16. Marino quiere repartir sus canicas entre sus amigos de la escuela en partes iguales. A cada amigo le tocaron 14 canicas. ¿Cuál opción representa la forma en que Marino repartió sus canicas?
- A) Tenía 350 canicas y 24 amigos
 - B) Tenía 350 canicas y 23 amigos
 - C) Tenía 210 canicas y 15 amigos
 - D) Tenía 210 canicas y 20 amigos

17. Un camión de carga rinde 12 km por cada litro de diesel si viaja a 120km/h. ¿Cuántos litros habrá consumido un camión si ha recorrido 1320 km?
- A) 100 litros
 - B) 10 litros
 - C) 111 litros
 - D) 110 litros

Observa el círculo



18. De las cuatro líneas interiores, la más gruesa corresponde al:
- A. El diámetro
 - B. El perímetro
 - C. El radio
 - D. La circunferencia
19. La letra griega π representa las veces que el diámetro cabe en un círculo y equivale a:
- A. 3.1614
 - B. 3.6114
 - C. 3.1416
 - D. 3.4116
20. ¿Cuál es la medida de la circunferencia?



- A. 196 cm
- B. 43.9824 cm
- C. 47.7624 cm
- D. 42 cm

21. María prepara 2 naranjadas, en la naranjada A utilizó 5 vasos de agua y 3 vasos de jugo y en la naranjada B 20 vasos de agua y 8 de jugo. ¿Cuál naranjada sabe más a naranja?

- A. La "A"
- B. La "B"
- C. Las dos saben igual
- D. Ninguna

OBSERVA MUY BIEN



22. Si se mezcla toda la pintura, ¿Qué fracción de la mezcla es pintura roja?
- A. 1/3
 - B. 4/6
 - C. 2
 - D. 4

23. Rafael tiene las siguientes prendas de vestir:



Las combinaciones distintas que puede realizar son:

- A. 9
- B. 6
- C. 12
- D. 24

24. Existe una representación gráfica para el problema anterior. Esta representación se llama:

- A. Gráfica
- B. Diagrama de árbol
- C. Tabla
- D. Eje de coordenadas

OBSERVA LAS SIGUIENTES TABLAS

DULCES	PRECIO
3	\$ 4.05
8	\$ 10.80
10	\$ 13.50
14	\$ 18.90
21	\$ 28.35

CHICLES	PRECIO
6	\$ 8.52
9	\$ 12.78
11	\$ 15.62
15	\$ 21.30
18	\$ 25.56

CHOCOLATE	PRECIO
4	\$ 5.20
7	\$ 9.10
12	\$ 15.60
17	\$ 22.10
24	\$ 31.20

GALLETAS	PRECIO
5	\$ 7.10
13	\$ 18.46
16	\$ 22.72
19	\$ 26.98
20	\$ 28.40

25. De acuerdo a la información, ¿Qué resulta más barato comprar?

- A. UN DULCE B. UN CHICLE
C. UN CHOCOLATE D. UNA GALLETA

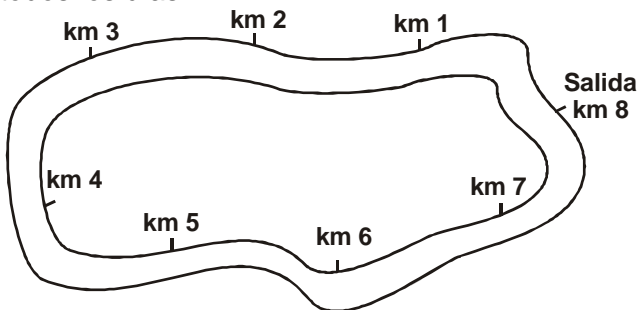
26. Ayuda a encontrar quien está equivocado

- A) Juan dice que 75 cm es igual a $\frac{3}{4}$ m
B) Perla dice que 0.49 litros es mayor que 0.355 litros
C) Matías afirma que 0.3 litros equivale a $\frac{1}{3}$ de litro
D) Yolanda dice que $\frac{1}{4}$ de litro es igual a 0.250 litros.

27. Blanca tiene un listón que mide 8 metros y lo va a partir en 5 partes iguales. ¿De qué tamaño será cada pedazo de listón? ¿Cuál de los siguientes resultados NO es una expresión correcta?

- A) 1.6 metros
B) $1 \frac{6}{8}$ metros
C) 1600 cm
D) 1.60 m

El siguiente dibujo muestra la pista de un parque donde algunas personas acostumbran a correr todos los días.



28. Zayda recorrió $2 \frac{3}{4}$ vueltas de la pista, saliendo del kilómetro 4. ¿En qué kilómetro terminó su recorrido?

- A) Km.1 C) Km. 2
B) Km.6 D) Km. 7


29. Andrea fue al puesto a comprar frijol, si pagó \$86.45 y el kilo cuesta \$ 12.35 ¿cuántos kilos compró?

- A) 9 kilos C) 8 kilos
B) 7 kilos D) 6 kilos

30. El día del amor y la amistad, Lucía hizo moños para regalar a sus amigas, utilizó $\frac{1}{3}$ de metro para cada uno, si tenía 6 metros de listón,

¿Cuántos moños elaboró?

- A) 12 moños
B) 14 moños
C) 16 moños
D) 18 moños



CIENCIAS NATURALES

31. Es la fuente de energía más valiosa con la que contamos

- A. Petróleo B. Aire
C. Agua D. Sol

32. Es la mejor manera de ayudar a resolver los problemas del ambiente

- A. Utilizar la energía eléctrica
B. Utilizar más energía química
C. Utilizar menos energía
D. Utilizar derivados del petróleo

33. De acuerdo a la historia de la humanidad ¿Qué beneficios obtuvo el hombre con el descubrimiento del fuego?

- A. Permitted quemar los bosques.
B. Sirvió para cocinar y como medio de defensa contra fieras y pueblos.
C. Se relaciono con otras tribus.
D. Amplio sus territorios.

34. ¿Qué fue lo que dio origen al descubrimiento de artefactos y maquinarias en la vida del ser humano?

- A. La necesidad de sobrevivir y transformar su vida de una forma sencilla y cómoda.
- B. La oportunidad que se le presento.
- C. Por querer tener dinero.
- D. La forma de entrenarse en la vida diaria.

35. ¿Cómo han transformado la vida del ser humano, las máquinas?

- A. Le han servido para hacer lento su trabajo.
- B. Le permiten tener más maquinaria.
- C. Le ayudan en el movimiento.
- D. Le han permitido hacer más rápido su trabajo.

36. ¿En qué transforman la energía, las máquinas?

- A. En productos.
- B. En movimiento y trabajo.
- C. En combustible.
- D. En gas.

37. ¿Cuál de las siguientes máquinas NO es una maquina térmica?



A)



B)



C)



D)

38. ¿Dónde tiene principalmente su origen la contaminación?

- A) En la industria, en los hogares y en los automóviles.
- B) En los bosques y parques.
- C) En los patios.
- D) En los lugares de recreación.

39. La siguiente es una medida que se pueden llevar a cabo en el hogar, para reducir las emisiones y desechos que se generan en la atmósfera:

- A) Talar los bosques.
- B) Quemar basura.
- C) Dejar prendidas las luces.
- D) Usar tinacos negros para que absorban la energía del sol y así emplear menos gas.

40. ¿Cuál es la relación entre el desarrollo social y el calentamiento global?

- A) La modificación de la atmosfera.
- B) El desarrollo.
- C) A medida que el hombre se desarrolla, utiliza más los combustibles y con esto provoca el calentamiento.
- D) Los océanos, las plantas y los arboles.

41. ¿Qué es el Efecto Invernadero?

- A) Es cuando el aire caliente sube y el aire frío baja.
- B) Es cuando no podemos respirar.
- C) Es cuando el dióxido de carbono se acumula en grandes cantidades en la atmosfera, provocando alteraciones en el clima.
- D) Es cuando la capa de ozono protege a la tierra.

42. La mayoría de las fuentes de generación de electricidad son contaminantes. ¿Qué harías para disminuir la contaminación?

- A) Bañarme diariamente.
- B) Ahorrar energía en casa desconectando los aparatos que no se usen.
- C) Usar los aparatos electrodomésticos.
- D) Tomar en cuenta las horas y los días

43. ¿Cuál de las siguientes NO es una medida de seguridad para trabajar con la electricidad?

- A) Utilizar calzado con suela de cuero
- B) Emplear herramientas que tengan aislantes en mangos o agarraderas.
- C) Nunca manipular un aparato si está conectado a la corriente.
- D) Emplear utensilios de plástico o de madera para el manejo de cables o artefactos que conduzcan corriente eléctrica.

44. ¿Qué acciones pueden disminuir el impacto del cambio climático en el mundo?

- A) Intensificar las prácticas agrícolas y ganaderas.
- B) Incendiar bosques y selvas.
- C) Generar y usar energía eólica y solar.
- D) No ahorrando energía

45. ¿Cómo podemos tener un equilibrio entre las necesidades humanas y el ambiente?

- A) Consumiendo más productos.
- B) Teniendo fábricas.
- C) Utilizando más recursos naturales.
- D) Modificando nuestros patrones de consumo, pensando en un desarrollo sustentable: consumir menos para producir menos.

GEOGRAFIA

Analiza los siguientes dibujos y contesta



46. ¿Qué etapas del ciclo productivo hacen falta en las imágenes?


- A) Comercialización y venta
- B) Producción y transporte
- C) Consumo y transporte
- D) Comercialización y transporte

47. Don Miguel vive en Colima y vende los huevos que se producen en su granja a su entidad vecina Jalisco.

¿Qué tipo de comercio práctica?

- A) Comercio informal
- B) Comercio internacional
- C) Comercio interior
- D) Comercio exterior

48. México exporta miel a varios países, esto quiere decir que nuestro país practica el comercio:



- A) Comercio interior
- B) Comercio Mundial
- C) Comercio entre países
- D) Comercio exterior

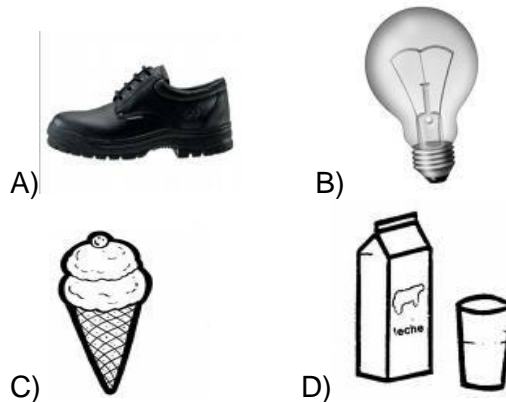
49. ¿Cuál es la parte más compleja del proceso productivo?

- A) La producción
- B) La comercialización
- C) El transporte
- D) El consumo

50. ¿A qué país envía México mayor parte de sus aportaciones?

- A) Inglaterra
- B) Estados Unidos
- C) Japón
- D) China

51. De los siguientes objetos y productos ¿Cuál de ellos NO lo consideras básico en tu hogar?



A)

B)

C)

D)

ESTOS SON LOS TICKETS DE COMPRA DE FAMILIAS QUE FUERON AL CENTRO COMERCIAL.

- A**
- 1 DVD
 - 5 refrescos
 - 1 kilo de frijol
 - 2 latas de atún
 - 3 CD de música

- C**
- 3 chocolates
 - 1 televisor
 - 1 juguete
 - 1 grabadora
 - 1 Celular

- B**
- 3 kg de frijol
 - 4 kg de arroz
 - 3 papayas
 - 6 manzanas
 - 4 litros de leche

- D**
- 2 focos
 - 1 litro de pintura
 - 1 bolsa de jabón
 - 4 vasos
 - 1 kg de sal

52. ¿Cuál de las familias pertenece a una sociedad consumista?
53. De las siguientes opciones en cuál NO se realiza un consumo responsable.
- A) Jugo natural o agua de frutas: Todos los días
 - B) Chocolates o dulces: Uno al día
 - C) Refresco: 1 al día
 - D) Fruta: 3 veces a la semana
54. ¿Cuál de los siguientes anuncios contribuyen al consumo responsable?



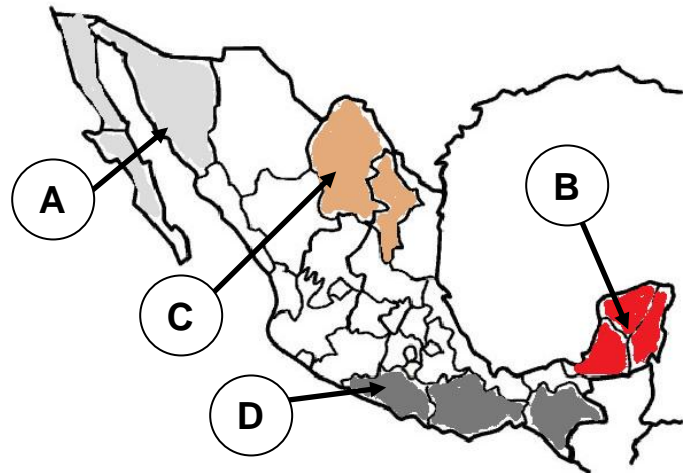
55. ¿Cuál de los anuncios anteriores contribuye a un consumo excesivo?

56. Los lugares que no cuentan con la mayoría de los servicios básicos como: drenaje, clínicas, escuelas, vías de comunicación, etc. Se les llama
- A) Zonas urbanas
 - B) Pueblitos
 - C) Zonas peligrosas
 - D) Zonas Marginadas

57. De acuerdo con la organización de las Naciones Unidas. Para el año 2006 los países menos desarrollados están en:
- A) América
 - B) África
 - C) Asia
 - D) Oceanía

58. ¿Cuál es el país de América que pertenece al grupo de los MENOS desarrollados?
- A) México
 - B) Venezuela
 - C) Haití
 - D) Guatemala

59. En nuestro país en que zona se encuentra la población más marginada



60. ¿Cuál de las opciones anteriores señala a los estados con MENOS marginación en el país?

HISTORIA

61. La maestra en la clase de historia comentó: _ Al finalizar el imperio romano debido a las **invasiones de bárbaros** se inicia una nueva etapa de la historia.

¿A qué etapa se refiere la maestra?

- A. La edad moderna
- B. La edad contemporánea
- C. La edad antigua
- D. La edad media

62. Eran el grupo social más poderoso de los reinos de la Edad Media

- A. Reyes
- B. Guerreros
- C. Feudales
- D. Clérigos

63. Religión que se fundamenta en las ideas del profeta Mahoma

- A. Cristianismo
- B. Islam
- C. Budismo
- D. Hinduismo

64. ¿Cómo se les llamó a las grandes expediciones militares organizadas con el fin de recuperar Jerusalén?

- A) Feudalismo.
- B) Las cruzadas.
- C) La Guerra Santa.
- D) La Santa Inquisición.

65. ¿Qué aportaciones le debemos a los chinos de la Edad Media?

- A) El papel, la imprenta y el reloj.
- B) El papel, la imprenta y la pólvora.
- C) El telescopio, el papel y la pólvora.
- D) La imprenta, el telégrafo y la pólvora.

66. Los campesinos de esta época no eran esclavos, pero no podían abandonar el lugar y tenían que solicitar el permiso del señor feudal para tomar todas las decisiones importantes de su vida.

¿Cómo se le llamó a esa dependencia?

- A) Servidumbre
- B) Esclavos
- C) Lacayos
- D) Siervos

67. A principios del siglo VII surgió una nueva religión llamada Islam.

¿Qué significa la palabra Islam?

- A) Sometimiento a Dios.
- B) Sometimiento al Rey.
- C) Sometimiento a Mahoma.
- D) Sometimiento a los Señores feudales

68. La economía de la Edad Media se basaba en

- A) La ganadería
- B) La agricultura
- C) La pesca
- D) La minería

69. El principal cultivo de la economía en la India fue:

- A) El frijol
- B) El algodón
- C) El arroz
- D) El maíz

70. ¿Cuál fue el peor padecimiento en la Edad Media?

- A) La gripe
- B) La viruela
- C) El sarampión
- D) La peste bubónica

FORMACIÓN CÍVICA Y ÉTICA

71. Lo ejerce el Presidente de la República

- A. PODER EJECUTIVO
- B. PODER LEGISLATIVO
- C. PODER JUDICIAL
- D. PODER POLÍTICO

72. Es la principal labor de los diputados y senadores

- A. DIRIGIR LAS ELECCIONES
- B. REVISAR Y APROBAR LEYES
- C. GOBERNAR SUS TERRITORIOS
- D. ORGANIZAR LOS GASTOS DEL GOBIERNO

73. Es representado por la Suprema Corte de Justicia de la Nación

- A. PODER EJECUTIVO
- B. PODER LEGISLATIVO
- C. PODER JUDICIAL
- D. PODER POLÍTICO

74. Se le define como gobierno del pueblo
 A. TOLERANCIA B. DEMOCRACIA
 C. ALTERNANCIA D. IDEOLOGÍA
75. La Constitución Política que actualmente regula la vida de nuestro país, es una consecuencia de:
 A. LA GUERRA DE INDEPENDENCIA
 B. LA REFORMA
 C. LA CONQUISTA DE MÉXICO
 D. LA REVOLUCIÓN MEXICANA
76. Nuestra Constitución fue promulgada el 5 de febrero de 1917 en
 A. QUERÉTARO B.
 GUADALAJARA
 C. MÉXICO D. PUEBLA

77. Representa el Poder Ejecutivo Estatal:
 A. EL GOBERNADOR DEL ESTADO
 B.- EL PRESIDENTE DE LA REPUBLICA
 C. EL CONGRESO DEL ESTADO
 D. EL CONGRESO LOCAL
78. Don Raúl fue encarcelado por decir que no estaba de acuerdo con la elección del Presidente Municipal. Según lo anterior ¿Qué libertad consignada en la Constitución le fue violada?
 A. DE ASOCIACIÓN B. DE IMPRENTA
 C. DE EXPRESIÓN D. DE TRÁNSITO

79. El logotipo del organismo encargado de defender ante abusos de autoridades y de la tortura es:



A



B



80. El padrino de Roberto es Diputado Federal y viaja constantemente a la ciudad de México. ¿Qué poder ejerce ese señor?
 A. EJECUTIVO B. LEGISLATIVO
 C. JUDICIAL D. FEDERAL

HOJA DE RESPUESTAS

NOMBRE DEL ALUMNO					
GRADO		GRUPO		NÚMERO DE LISTA	
ESCUELA					
FECHA					

INSTRUCCIONES.- RELLENA EN CADA PREGUNTA SÓLO UN ÓVALO QUE INDIQUE LA RESPUESTA CORRECTA.

ESPAÑOL					24	(A)	(B)	(C)	(D)	47	(A)	(B)	(C)	(D)	FORMACIÓN CÍVICA				
1	(A)	(B)	(C)	(D)	25	(A)	(B)	(C)	(D)	48	(A)	(B)	(C)	(D)	71	(A)	(B)	(C)	(D)
2	(A)	(B)	(C)	(D)	26	(A)	(B)	(C)	(D)	49	(A)	(B)	(C)	(D)	72	(A)	(B)	(C)	(D)
3	(A)	(B)	(C)	(D)	27	(A)	(B)	(C)	(D)	50	(A)	(B)	(C)	(D)	73	(A)	(B)	(C)	(D)
4	(A)	(B)	(C)	(D)	28	(A)	(B)	(C)	(D)	51	(A)	(B)	(C)	(D)	74	(A)	(B)	(C)	(D)
5	(A)	(B)	(C)	(D)	29	(A)	(B)	(C)	(D)	52	(A)	(B)	(C)	(D)	75	(A)	(B)	(C)	(D)
6	(A)	(B)	(C)	(D)	30	(A)	(B)	(C)	(D)	53	(A)	(B)	(C)	(D)	76	(A)	(B)	(C)	(D)
7	(A)	(B)	(C)	(D)	CIENCIAS NATURALES					54	(A)	(B)	(C)	(D)	77	(A)	(B)	(C)	(D)
8	(A)	(B)	(C)	(D)	31	(A)	(B)	(C)	(D)	55	(A)	(B)	(C)	(D)	78	(A)	(B)	(C)	(D)
9	(A)	(B)	(C)	(D)	32	(A)	(B)	(C)	(D)	56	(A)	(B)	(C)	(D)	79	(A)	(B)	(C)	(D)
10	(A)	(B)	(C)	(D)	33	(A)	(B)	(C)	(D)	57	(A)	(B)	(C)	(D)	80	(A)	(B)	(C)	(D)
11	(A)	(B)	(C)	(D)	34	(A)	(B)	(C)	(D)	58	(A)	(B)	(C)	(D)					
12	(A)	(B)	(C)	(D)	35	(A)	(B)	(C)	(D)	59	(A)	(B)	(C)	(D)					
13	(A)	(B)	(C)	(D)	36	(A)	(B)	(C)	(D)	60	(A)	(B)	(C)	(D)					
14	(A)	(B)	(C)	(D)	37	(A)	(B)	(C)	(D)	HISTORIA									
15	(A)	(B)	(C)	(D)	38	(A)	(B)	(C)	(D)	61	(A)	(B)	(C)	(D)					
MATEMÁTICAS					39	(A)	(B)	(C)	(D)	62	(A)	(B)	(C)	(D)					
16	(A)	(B)	(C)	(D)	40	(A)	(B)	(C)	(D)	63	(A)	(B)	(C)	(D)					
17	(A)	(B)	(C)	(D)	41	(A)	(B)	(C)	(D)	64	(A)	(B)	(C)	(D)					
18	(A)	(B)	(C)	(D)	42	(A)	(B)	(C)	(D)	65	(A)	(B)	(C)	(D)					
19	(A)	(B)	(C)	(D)	43	(A)	(B)	(C)	(D)	66	(A)	(B)	(C)	(D)					
20	(A)	(B)	(C)	(D)	44	(A)	(B)	(C)	(D)	67	(A)	(B)	(C)	(D)					
21	(A)	(B)	(C)	(D)	45	(A)	(B)	(C)	(D)	68	(A)	(B)	(C)	(D)					
22	(A)	(B)	(C)	(D)	GEOGRAFÍA					69	(A)	(B)	(C)	(D)					
23	(A)	(B)	(C)	(D)	46	(A)	(B)	(C)	(D)	70	(A)	(B)	(C)	(D)					